

## I четверть.

### Контрольная работа №1

#### ТЕМА: «НЕЖИВАЯ И ЖИВАЯ ПРИРОДА»

1. Что составляет природу? Обведи нужную букву.

- а) весь окружающий мир;
- б) все, что нас окружает и не сделано руками человека;
- в) растения и животные.

2. Установи соответствие.

ПРИРОДА

НЕ ПРИРОДА

дерево

камень

дом

завод

волк

шкаф

3. К какой природе относятся перечисленные названия тел?

Допиши предложение

- Камен, сосулька, облако, глина, песчинка – это \_\_\_\_\_
- Береза, жук, лягушка, колокольчик, лиса – это \_\_\_\_\_

4. Что необходимо для всего живого на земле? Вычеркни лишнее.

Солнце, вода, воздух, луна.

5. Какой объект природы лишний? Подчеркните его.

Скворец, кузнечик, берёза, тюльпан, луна, волк.

## Контрольная работа №2

### ТЕМА: «В ГОСТИ К ОСЕНИ»

**1. Запиши по порядку следующие за осенью времена года:**

Осень, \_\_\_\_\_, \_\_\_\_\_, \_\_\_\_\_.

**2. Обведи кружком букву правильного ответа. Осенью:**

- а) день становится короче;
- б) солнце встает раньше;
- в) ночь становится короче.

**3. Какое основное осеннее изменение происходит в неживой природе?**

**Обведи нужную букву.**

- а) потепление;
- б) грозы;
- в) похолодание;
- г) начало учебного года;
- д) листопад.

**4. Кто и что готовит на зиму? Соедини стрелками.**

БАРСУК

зерно

МЫШИ

грибы, орехи

БЕЛКИ

жир

ПЧЕЛЫ

мёд

**5. Подчеркни перелетных птиц одной чертой, а зимующих птиц – двумя чертами.**

Голубь, аист, стриж, ворона, клёст, сорока, грач, жаворонок.

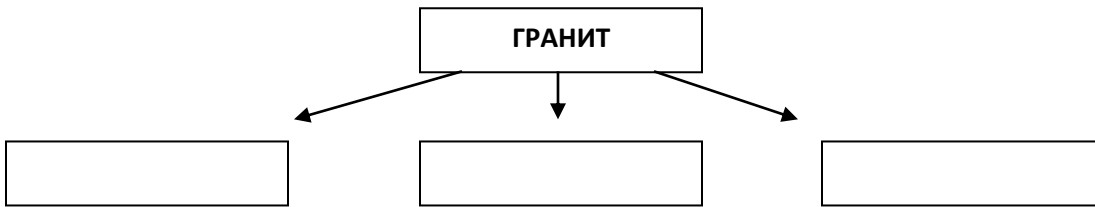
**\*6. Обведи кружком букву правильного ответа.**

Первыми на юг улетают:

- а) водоплавающие;
- б) насекомоядные.

**Примерные контрольные задания на зачётную сессию**

**1. Из каких минералов состоит гранит? Заполни схему.**



**2. Отгадай загадку. Напиши отгадку.**

Этот мастер белый – белый  
В школе не лежит без дела:  
Пробегают по доске,  
Оставляет белый след.

( . . . )

**3. Что относится к неживой природе? Допиши предложение.**

Природное тело однородное по составу – это \_\_\_\_\_

**4. Подчеркни одной чертой названия горных пород, двумя – минералов.**

Полевой шпат, гранит, кремень, кварц, глина, песок.

**5. Установи соответствие.**

	жемчуг
СТРОИТЕЛЬНЫЕ МАТЕРИАЛЫ	глина
	мрамор
МАТЕРИАЛЫ ДЛЯ УКРАШЕНИЙ	известняк
	песок
	бирюза

## II четверть.

### Контрольная работа №3

#### ТЕМА: «КАКИЕ БЫВАЮТ РАСТЕНИЯ?»

1. Соедини стрелками название признака и название группы растений.

Один твёрдый ствол	кустарник
Один или несколько сочных, мягких, неодревесневших стеблей	дерево
Несколько тонких деревянистых стеблей	травянистое растение

2. Какой признак является главным для дерева? Обведи нужную букву.

- а) один твердый ствол;
- б) много веток и листьев;
- в) дерево высокое.

3. Какое растение в каждой строке «чужое»? Вычеркните его. Назови группу оставшихся растений.

- Орешник, шиповник, смородина, ель, крыжовник – это \_\_\_\_\_
- Липа, сосна, берёза, рябина, тополь – это \_\_\_\_\_
- Крапива, одуванчик, осина, ландыш, колокольчик – это \_\_\_\_\_

4. Как отличить хвойное дерево от лиственного? Обведи нужную букву.

- а) у хвойных деревьев нет листьев, а у лиственных есть листья;
- б) у хвойных деревьев ствол коричневый, а у лиственных белый;
- в) у хвойных деревьев листья в виде иголок, а у лиственных в виде пластинок.

5. Покажи стрелками, к какой группе относятся данные растения:

ЛИСТВЕННЫЕ РАСТЕНИЯ

берёза  
ель  
рябина

## ХВОЙНЫЕ РАСТЕНИЯ

сосна  
лиственница  
липа

### \*6. Допиши предложения.

К зиме стволы деревьев \_\_\_\_\_

К зиме стебли трав \_\_\_\_\_

К зиме стебли кустарников \_\_\_\_\_

**Слова помощники:** не изменяются, увядают, отмирают, остаются живыми.

## Контрольная работа №4

### ТЕМА: «КАКИЕ БЫВАЮТ ЖИВОТНЫЕ?»

#### 1. Кто в ряду «чужой»? Вычеркни его. Назови одним словом оставшиеся тела. Допиши предложение.

- Комар, щука, лягушка, чашка, синица, медведь – это \_\_\_\_\_

#### 2. Обведи кружком все буквы правильных ответов. У животных есть:

- а) лапы;
- б) ноги;
- в) руки;
- г) крылья.

#### 3. Соедини стрелками название признака и название группы животных.

тело, покрытое перьями, две  
ноги, большинство летает

тело, покрытое чешуей, живут в  
воде, плавают

тело покрыто шерстью, четыре  
ноги

РЫБЫ

ЗВЕРИ

ПТИЦЫ

#### 4. Сколько ног у насекомых? Обведи нужную букву.

- а) 4 ноги;
- б) 8 ног;
- в) 6 ног.

**5. Какое животное относится к рыбам? Обведи нужную букву.**

- а) дельфин;
- б) бегемот;
- в) карп.

**6. Какое животное относится к земноводным? Обведи нужную букву.**

- а) ящерица;
- б) лягушка;
- в) носорог;

### Контрольная работа №5

#### ТЕМА: «ЧТО ТАКОЕ ЭКОНОМИКА?»

**1.**

**Что такое экономика? Обведи нужную букву.**

- а) экономика – это промышленность;
- б) экономика – это хозяйственная деятельность;
- в) экономика – это деньги.

**2. Обведи кружком все буквы правильных ответов. Отрасли экономики:**

- а) торговля;
- б) сельское хозяйство;
- в) скотоводство;
- г) промышленность;
- д) строительство;
- е) транспорт.

**3. Соедини стрелками название признака и название вида экономики.**

производство одежды, обуви,  
посуды

перевозка людей и грузов

выращивание культурных  
растений

ТРАНСПОРТ

СЕЛЬСКОЕ  
ХОЗЯЙСТВО

ПРОИЗВОДСТВО

4. Что относится к продукции сельского хозяйства? Вычеркни лишнее.

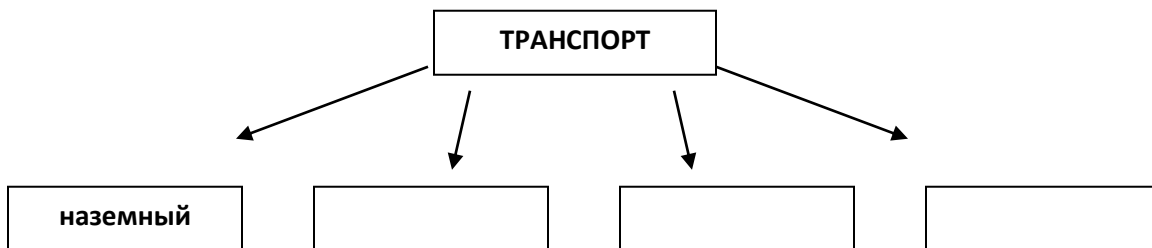
Картофель, зерно, мёд, автомобиль, молоко, мясо.

5. Из каких металлов изготавливали монеты? Дополни список.

Монеты изготавливали из серебра, \_\_\_\_\_, \_\_\_\_\_, \_\_\_\_\_.

**Примерные контрольные задания на зачётную сессию**

1. Что такое экономика? Обведи нужную букву.



2. К какой группе относятся перечисленные виды транспорта? Допиши предложение. Вычеркни лишнее.

- Самолёт, вертолёт, воздушный шар, катер, аэроплан – это \_\_\_\_\_

3. Подчеркни одной чертой пассажирский транспорт, двумя чертами – грузовой, волнистой линией – специальный.

пожарная машина

грузовик

троллейбус

поезд в метро

4. Какую специальную машину можно вызвать по телефону 02? Обведи нужную букву.

- а) милиция;
- б) пожарная машина;
- в) скорая помощь.

**5. Соедини стрелками название вида транспорта и название группы.**

ЛИЧНЫЙ ТРАНСПОРТ	автобус
	Жигули (легковой автомобиль)
ОБЩЕСТВЕННЫЙ ТРАНСПОРТ	пассажирский поезд
	троллейбус
	метро
	москвич (легковой автомобиль)

### III четверть.

#### Контрольная работа №6

#### ТЕМА: «ВСЕ ПРОФЕССИИ ВАЖНЫ»

**1. Кто в ряду «чужой»? Вычеркни его. Назови одним словом оставшиеся тела. Допиши предложение.**

Маляр, сталевар, шофер, повар, самосвал, агроном, продавец – это

\_\_\_\_\_

**2. Запиши названия профессий, которые связаны с транспортом.**

Пилот, \_\_\_\_\_, \_\_\_\_\_, \_\_\_\_\_, \_\_\_\_\_.

**3. Кто что делает? Соедини стрелками.**

Кто пишет книги?	врач
Кто лечит людей?	артист
Кто печёт хлеб?	писатель
Кто выступает в цирке?	водитель
Кто водит такси?	пекарь

**4. Отгадай загадку. Напиши отгадку.**

Скажи, кто так вкусно  
Готовит щи капустные,  
Пахучие котлеты,  
Салаты, винегреты,  
Все завтраки, обеды?

( . . . . . )



**5. Обведи кружком все буквы правильных ответов. Учитель пользуется:**

- а) картой;
- б) доской;
- в) кастрюлей;
- г) мелом;
- д) указкой.

### **Контрольная работа №7**

#### **ТЕМА: «В ГОСТИ К ЗИМЕ»**

**1. Какие зимние явления происходят в неживой природе? Вычеркни лишнее.**

Изморозь, гололедица, ледоход, оттепель.

**2. О каком зимнем явлении идет речь? Допиши предложение.**

Снег подтаивает, становится влажным и легко лепится – это \_\_\_\_\_

**3. Кто впадает в зимнюю спячку? Обведи нужную букву.**

- а) волк;
- б) лось;
- в) кабан;
- г) ёж.

**4. Какие птицы зимующие? Обведи нужную букву.**

- а) грач, сойка, соловей;
- б) клёст, воробей, голубь;
- в) скворец, ворона, ласточка.

**5. Почему многие птицы зимой держатся ближе к жилью человека? Обведи нужную букву.**

- а) здесь можно погреться;
- б) здесь проще отыскать корм;
- в) здесь можно пообщаться с людьми.

**6. Какие животные меняют окраску к зиме? Подчеркни.**

Белка, медведь, лиса, заяц, лось.

## Примерные контрольные задания на зачётную сессию

### 1. Допиши предложение.

Голова, шея, туловище, руки, ноги – это \_\_\_\_\_

### 2. Установи стрелками соответствие.

ЧАСТИ ТЕЛА	голова
	сердце
	мозг
	шея
ОРГАНЫ	туловище
	легкие
	конечности

### 3. С помощью какого органа дышит человек? Обведи нужную букву.

- а) мозг;
- б) легкие;
- в) сердце;
- г) желудок.

### 4. Какой орган непрерывно гонит в сосуды кровь и заставляет её обегать всё тело? Обведи нужную букву.

- а) легкие;
- б) сердце;
- в) желудок;
- г) кишечник;

### 5. В каком ряду дан правильный порядок расположения органов пищеварения? Обведи нужную букву.

- а) кишечник – рот – желудок – пищевод – прямая кишка;
- б) рот – зубы – пищевод – желудок – кишечник – прямая кишка;
- в) желудок – рот – зубы – кишечник – прямая кишка.

## IV четверть.

### Контрольная работа №8

#### ТЕМА: «ДЛЯ ЧЕГО НУЖЕН КОМПАС?»

**1. Допиши предложение.**

Линия видимого соединения неба с земной поверхностью, называется

\_\_\_\_\_

**2. Что происходит с горизонтом при подъёме вверх? Обведи нужную букву.**

- а) уменьшается;
- б) розовеет;
- в) расширяется;
- г) синееет.

**3. Какой прибор применяют для определения сторон горизонта? Подчеркни.**

Барометр, линейка, компас, термометр.

**4. Из каких частей состоит компас? Обведи кружком все буквы правильных ответов.**

- а) стеклянная трубка;
- б) предохранитель;
- в) магнитная стрелка;
- г) корпус.

**5. Установи стрелками соответствие.**

ОСНОВНЫЕ СТОРОНЫ  
ГОРИЗОНТА

ПРОМЕЖУТОЧНЫЕ СТОРОНЫ  
ГОРИЗОНТА

запад

север

юго-восток

северо-запад

юг

**6. По каким местным природным признакам можно определить стороны горизонта? Обведи кружком буквы правильных ответов.**

- а) по муравейнику;
- б) по оврагу;
- в) по мху на пне или камне;
- г) по отдельно стоящему дереву.

## **Контрольная работа №9**

### **ТЕМА: «ФОРМЫ ЗЕМНОЙ ПОВЕРХНОСТИ»**

**1. Что относится к основным формам земной поверхности. Обведи кружками все буквы правильных ответов.**

- А) углубления;
- б) горы;
- в) равнины;
- г) холмы.

**2. Допиши предложение.**

Очень неровные участки земной поверхности, которые сильно возвышаются над окружающей местностью – это \_\_\_\_\_.

**3. Как называются возвышения, которые можно встретить на равнинах? Обведи нужную букву.**

- А) холмы;
- б) горные хребты;
- в) овраги;
- г) углубления.

**4. Из каких частей состоит холм? Вычеркни лишнее.**

Вершина, обрыв, склон, подошва.

**5. Как называется самая высокая часть холма? Обведи нужную букву.**

- А) подошва;
- б) вершина;
- в) склон.

**\*6. Каким цветом на карте окрашены равнины. Обведи нужную букву.**

- А) голубым;
- б) коричневым;
- в) зелёным и жёлтым.

## Контрольная работа №10

### ТЕМА: ЧТО ТАКОЕ КАРТА И КАК ЕЕ ЧИТАТЬ?

**1. Что такое карта? Обведи нужную букву.**

- а) уменьшенное изображение земной поверхности на плоскости;
- б) рисунок земной поверхности в уменьшенном виде.

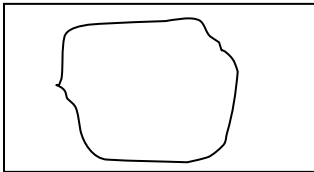
**2. Где на карте находится запад? Обведи нужную букву.**

- а) вверху;
- б) внизу;
- в) слева;
- г) справа.

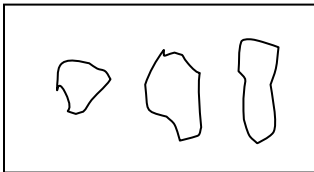
**3. Что обозначают на карте различные цвета? Допиши предложения.**

- Голубым цветом на карте обозначены \_\_\_\_\_.
- Зелёным цветом на карте обозначены \_\_\_\_\_.

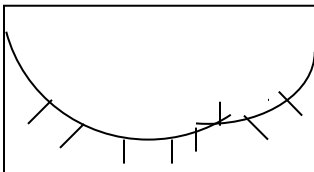
**4. Что обозначают на карте эти условные знаки? Установи соответствие.**



КАНАЛЫ



ОСТРОВА



ОЗЁРА

**5. Как правильно показывать на стенной карте? Обведи нужные буквы.**

- а) стой у карты справа;

- б) показывать рукой или пальцем;
- в) показывать не надпись, а сам объект;
- г) показывай аккуратно и точно, названия произноси чётко.

### Примерные контрольные задания на зачётную сессию

#### 1. Запиши по порядку следующие за летом времени на года:

Лето, \_\_\_\_\_, \_\_\_\_\_, \_\_\_\_\_

#### 2. Обведи кружком букву правильного ответа.

Летом:

- а) день становится длиннее;
- б) солнце встает позже;
- в) ночь становится длиннее.

#### 3. Какие основные летние изменения происходят в неживой природе?

Обведи буквы правильных ответов.

- а) жаркая погода;
- б) ледоход;
- в) похолодание;
- д) грозы и ливни.

#### 4. Какие основные летние изменения происходят в живой природе.

Обведи буквы правильных ответов.

- а) цветение трав;
- б) набухание почек;
- в) созревание плодов;
- г) появление грибов;
- д) подрастание детёнышей.

#### 5. Каких насекомых можно встретить летом. Напиши.

\_\_\_\_\_, \_\_\_\_\_, \_\_\_\_\_,

\_\_\_\_\_, \_\_\_\_\_